

Adı Soyadı:

3. SINIF MATEMATİK YIL SONU GENEL DEĞERLENDİRME - 2



DOĞRU

YANLIŞ



$$100 \div 5 = ?$$

1. 120'ye yuvarlanan en küçük ve en büyük sayıların toplamı kaçtır?

- A) 238
- B) 239
- C) 240



2. Aşağıdaki sayılardan hangisi 500'den küçük üç basamaklı en büyük çift sayıdır?

- A) 490
- B) 498
- C) 499

3. Verilen işlemlerden hatalı olan hangisidir?

- A) $500 - 199 = 411$
- B) $600 - 250 = 350$
- C) $700 - 399 = 301$



4. "15 - 21 - 27 - 33 - - " sayı örüntüsünde boşluklara gelmesi gereken sayıların toplamı kaçtır?

- A) 74
- B) 84
- C) 89



5. Yarısı 175 olan sayınının, 2 katı kaçtır?

- A) 225
- B) 350
- C) 700

6. Ece 9 yaşındadır. Annesi Ece'den 25 yaş büyük, babası ise annesinden 1 yaş büyüktür. Ece, annesi ve babasının yaşları toplamı kaçtır?

- A) 78
- B) 80
- C) 82



optimistogretmen

7.

Yukarıdaki işlemin sonucu romen rakamı olarak aşağıdakilerden hangisidir?

- A) XIII
- B) XIX
- C) XX



8. Çoban Mehmet'in 154 koyunu, koyunlardan 47 daha az kuzusu vardır. Çoban Mehmet'in sahip olduğu koyun ve kuzuların toplamı kaçtır?

- A) 251
- B) 261
- C) 271




9. 300 kg buğdayın önce 125 kg'ı daha sonra 135 kg'ı satıldı. Kaç kg buğday kaldı?

- A) 40
- B) 50
- C) 60



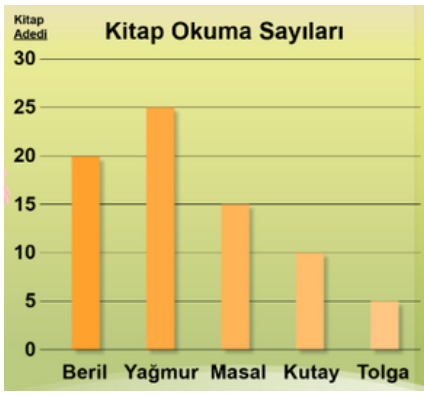
10. Okulda düzenlenen kermese 8 öğrenci ikişer kutu meyve suyu getirdi. Her kutuda 24 tane meyve suyu olduğuna göre kermese gelen meyve sularının toplamı kaçtır?

- A) 192
- B) 384
- C) 484



11. Filiz marketten tanesi 50 kuruş olan sakızlardan 8 tane aldı, satıcıya 5 TL uzattı. Filiz kaç TL para üstü almalıdır?

- A) 1 TL
- B) 2 TL
- C) 3 TL



12.

Yukarıdaki grafiğe göre öğrenciler toplam kaç kitap okumuştur?

- A) 65 B) 75 C) 85

13. Bir saatte 15 litre su damlatan bir musluk, bir günde kaç litre su damlatır?

- A) 150
B) 280
C) 360

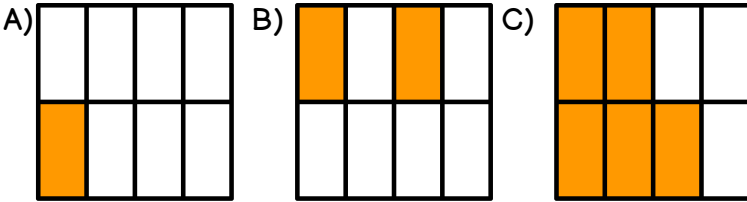


14. Bir bölme işleminde bölüm 14, bölen 7, kalan 1 ise bölünen kaçtır?

- A) 97
B) 98
C) 99




15. Aşağıda görsel olarak verilen kesirlerden hangisi birim kesri ifade eder?



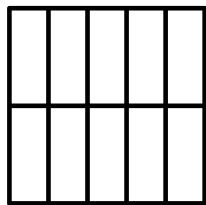
16. Faruk, 70 soruluk testin $\frac{1}{5}$ 'ini çözdü. Geriye çözeceği kaç soru kalmıştır?

- A) 14
B) 56
C) 65




17. Yakup, yanda verilen şeklin $\frac{1}{2}$ 'ini boyayarak göstermek istiyor. Kaç kutucuğu boyamalıdır?


- A) 5
B) 8
C) 10



optimistogretmen



Elma
15 TL



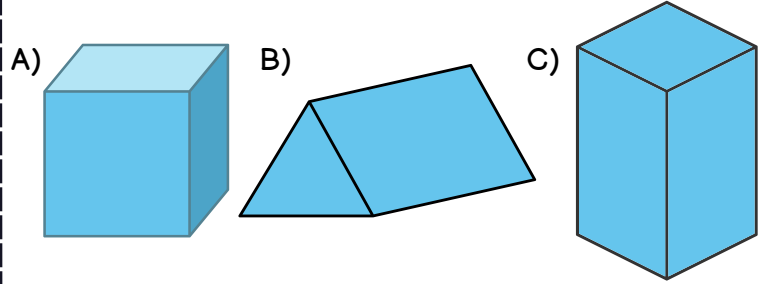
Muz
30 TL

18. Fatma, manava gidip 3 kg elma, 2 kg muz alıyor. Manava cebinden uzattığı para için manav paranın eksik olduğunu, 10 TL daha vermesi gerektiğini söylüyor. Fatma'nın cebinde kaç TL vardır?

- A) 85 TL
B) 95 TL
C) 105 TL

19. Derya 6 yüzü, 8 köşesi, 12 ayrıtı olan, yüzlerinden iki tanesi karesel iki tanesi dikdörtgensel bölge olan bir geometrik cisim çizdiğini söylüyor.

Aşağıdakilerden hangisi Derya'nın çizdiği cisimdir?



20. Duygu akşam 22.30'da yatmış, sabah 7.00'de uyanmıştır. Duygu ne kadar süre uyumuştur?

- A) 8 saat 30 dakika
B) 8 saat 45 dakika
C) 9 saat 30 dakika



CEVAPLAR

1	A B C	11	A B C
2	A B C	12	A B C
3	A B C	13	A B C
4	A B C	14	A B C
5	A B C	15	A B C
6	A B C	16	A B C
7	A B C	17	A B C
8	A B C	18	A B C
9	A B C	19	A B C
10	A B C	20	A B C

Başarılar dilerim...



3. SINIF MATEMATİK YIL SONU GENEL DEĞERLENDİRME - 2 CEVAP ANAHTARI



1	B
2	B
3	A
4	B
5	C
6	A
7	C
8	B
9	A
10	B

11	A
12	B
13	C
14	C
15	A
16	B
17	A
18	B
19	C
20	A

